

Ответы и указания к оцениванию образцов заданий проверочной работы по истории  
для обучающихся 10-х классов образовательных организаций города Москвы

№ задания	Ответ (эталон)	Макс. балл	Указания к оцениванию	Балл								
1	<div>Установите соответствие между событиями (явлениями, процессами) и участниками этих событий (явлений, процессов). Для каждой позиции из первого столбца подберите соответствующую позицию из выпадающего списка.</div> <table><tr><th>СОБЫТИЯ (ЯВЛЕНИЯ, ПРОЦЕССЫ)</th><th>УЧАСТНИКИ</th></tr><tr><td>трудовой героизм советского народа в годы первых пятилеток</td><td><div>A.Г. Стаханов</div></td></tr><tr><td>деятельность Всероссийской чрезвычайной комиссии по борьбе с контрреволюцией и саботажем</td><td><div>Ф.Э. Дзержинский</div></td></tr><tr><td>Битва за Москву</td><td><div>И.В. Панфилов</div></td></tr></table>	СОБЫТИЯ (ЯВЛЕНИЯ, ПРОЦЕССЫ)	УЧАСТНИКИ	трудовой героизм советского народа в годы первых пятилеток	<div>A.Г. Стаханов</div>	деятельность Всероссийской чрезвычайной комиссии по борьбе с контрреволюцией и саботажем	<div>Ф.Э. Дзержинский</div>	Битва за Москву	<div>И.В. Панфилов</div>	2	Ответ совпадает с эталоном	2
		СОБЫТИЯ (ЯВЛЕНИЯ, ПРОЦЕССЫ)	УЧАСТНИКИ									
		трудовой героизм советского народа в годы первых пятилеток	<div>A.Г. Стаханов</div>									
		деятельность Всероссийской чрезвычайной комиссии по борьбе с контрреволюцией и саботажем	<div>Ф.Э. Дзержинский</div>									
		Битва за Москву	<div>И.В. Панфилов</div>									
Допущена одна ошибка	1											
Другие варианты	0											

2

Прочтите отрывок из сочинения историка и выполните задания 2–4.

«Два депутата Думы, А.И. Гучков и В.В. Шульгин, выехали с требованием отречения в Псков, где появились 2 марта. До их прибытия начальник штаба главноверха генерал М.В. Алексеев, находившийся в постоянном контакте с М.В. Родзянко, запросил по телеграфу мнение всех командующих фронтами и флотами относительно возможного отречения царя в пользу сына Алексея. Ответы, за исключением двух, были положительными. Ознакомившись с телеграммами, император согласился на отречение от престола. Но, когда по приезде Гучков и Шульгин доложили царю обстановку в столице, он неожиданно для присутствующих заявил, что отрекается за себя и за наследника в пользу брата Михаила. Помимо манифеста об отречении, император подписал указы Сенату: один – о назначении Верховным главнокомандующим великого князя Николая Николаевича; другой – о назначении председателем Совета министров князя Г.Е. Львова. Все три документа царь утвердил около полудни 2 марта. В ту же ночь делегаты выехали обратно в Петроград, а бывший император – в ставку. Он рассчитывал вместе с женой и детьми уехать в Англию, но под давлением улицы и Петросвета правительство отказало ему. Бывший самодержец был доставлен в Царское Село, где уже арестованной находилась его семья. Они пробудут здесь до конца июля, когда по приказу Керенского их отправят в сибирский Тобольск».

Укажите имя императора, о котором идёт речь в тексте.

☐ Александр II

☐ Александр III

☐ Николай I

☒ Николай II

Укажите год, когда произошли описываемые события.

1917

1

А

Ответ совпадает с эталоном.

1

Другие варианты.

0

1

Б

Ответ совпадает с эталоном.


1


Другие варианты.

0

3	<div>Прочтите отрывок из сочинения историка и выполните задания 2–4.</div> <div>«Два депутата Думы, А.И. Гучков и В.В. Шульгин, выехали с требованием отречения в Псков, где появились 2 марта. До их прибытия начальник штаба главковерха генерал М.В. Алексеев, находившийся в постоянном контакте с М.В. Родзянко, запросил по телеграфу мнение всех командующих фронтами и флотами относительно возможного отречения царя в пользу сына Алексея. Ответы, за исключением двух, были положительными. Ознакомившись с телеграммами, император согласился на отречение от престола. Но, когда по приезде Гучков и Шульгин доложили царю обстановку в столице, он неожиданно для присутствующих заявил, что отречается за себя и за наследника в пользу брата Михаила. Помимо манифеста об отречении, император подписал указы Сенату: один – о назначении Верховным главнокомандующим великого князя Николая Николаевича; другой – о назначении председателем Совета министров князя Г.Е. Львова. Все три документа царь утвердил около полуночи 2 марта. В ту же ночь делегаты выехали обратно в Петроград, а бывший император – в ставку. Он рассчитывал вместе с женой и детьми уехать в Англию, но под давлением улицы и Петросовета правительство отказало ему. Бывший самодержец был доставлен в Царское Село, где уже арестованной находилась его семья. Они пробудут здесь до конца июля, когда по приказу Керенского их отправят в сибирский Тобольск».</div> <div>Выберите верные утверждения о фактах и событиях, упомянутых в тексте.</div> <div><div><input checked="" type="checkbox"/> Новое правительство отказало императору и его семье в выезде в Англию.</div><div><input type="checkbox"/> Депутаты Государственной Думы выехали в Тобольск с требованием отречения императора.</div><div><input type="checkbox"/> Российский император подписал документ, в котором он отказывался от престола в пользу сына.</div><div><input checked="" type="checkbox"/> Событие, о котором говорится в тексте, вошло в историю под названием «Февральская революция».</div><div><input checked="" type="checkbox"/> Действия депутатов Думы были поддержаны командованием российской армии, представителями генералитета.</div></div>	2	Ответ совпадает с эталоном	2
		Допущена одна ошибка	1	
		Другие варианты	0	

4	<div>Прочтите отрывок из сочинения историка и выполните задания 2–4.</div> <div>«Два депутата Думы, А.И. Гучков и В.В. Шульгин, выехали с требованием отречения в Псков, где появились 2 марта. До их прибытия начальник штаба главковерха генерал М.В. Алексеев, находившийся в постоянном контакте с М.В. Родзянко, запросил по телеграфу мнение всех командующих фронтами и флотами относительно возможного отречения царя в пользу сына Алексея. Ответы, за исключением двух, были положительными. Ознакомившись с телеграммами, император согласился на отречение от престола. Но, когда по приезде Гучков и Шульгин доложили царю обстановку в столице, он неожиданно для присутствующих заявил, что отречается за себя и за наследника в пользу брата Михаила. Помимо манифеста об отречении, император подписал указы Сенату: один – о назначении Верховным главнокомандующим великого князя Николая Николаевича; другой – о назначении председателем Совета министров князя Г.Е. Львова. Все три документа царь утвердил около полуночи 2 марта. В ту же ночь делегаты выехали обратно в Петроград, а бывший император – в ставку. Он рассчитывал вместе с женой и детьми уехать в Англию, но под давлением улицы и Петросовета правительство отказало ему. Бывший самодержец был доставлен в Царское Село, где уже арестованной находилась его семья. Они пробудут здесь до конца июля, когда по приказу Керенского их отправят в сибирский Тобольск».</div> <div>Запишите название правительства, которое упомянуто в данном отрывке.</div> <div>Временное правительство</div> <div>Запишите название события, в результате которого это правительство прекратило свою деятельность.</div> <div>Октябрьская революция</div>	1	А																
		Допущена одна ошибка	1																
		Другие варианты	0																
			Б																
	Ответ совпадает с эталоном.	1																	
	Другие варианты.	0																	
5	<div>Заполните пустые ячейки таблицы, используя выпадающие списки.</div> <table><tr><th>Страна, на территории которой произошло событие (проходил процесс)</th><th>Событие (процесс)</th><th>Участник события (процесса)</th></tr><tr><td>Турция</td><td>замена арабского алфавита на латинский</td><td>Мустафа Кемаль (Ататюк...)</td></tr><tr><td>США</td><td>организация строительства дорог и других...</td><td>Ф.Д. Рузвельт</td></tr><tr><td>Советская Россия</td><td>разработка плана ГОЭЛРО</td><td>Г.М. Крижановский</td></tr><tr><td>Китай</td><td>гражданская война между гоминьдановцами и коммунистами</td><td>Чан Кайши</td></tr></table>	Страна, на территории которой произошло событие (проходил процесс)	Событие (процесс)	Участник события (процесса)	Турция	замена арабского алфавита на латинский	Мустафа Кемаль (Ататюк...)	США	организация строительства дорог и других...	Ф.Д. Рузвельт	Советская Россия	разработка плана ГОЭЛРО	Г.М. Крижановский	Китай	гражданская война между гоминьдановцами и коммунистами	Чан Кайши	3	Ответ совпадает с эталоном	3
	Страна, на территории которой произошло событие (проходил процесс)	Событие (процесс)	Участник события (процесса)																
	Турция	замена арабского алфавита на латинский	Мустафа Кемаль (Ататюк...)																
	США	организация строительства дорог и других...	Ф.Д. Рузвельт																
	Советская Россия	разработка плана ГОЭЛРО	Г.М. Крижановский																
Китай	гражданская война между гоминьдановцами и коммунистами	Чан Кайши																	
		Допущена одна ошибка	2																
		Допущено две ошибки	1																
		Другие варианты	0																

6	Рассмотрите схему и выполните задания 6-7.		
	 <p>Укажите название города, обозначенного на схеме цифрой «1», в период, к которому относятся отражённые на схеме события.</p> <p>Ответ: <input type="text" value="Сталинград"/></p>		
1	Ответ совпадает с эталоном	1	
	Другие варианты	0	



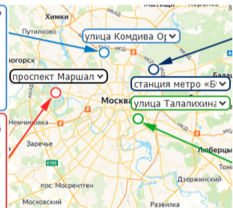
7	Рассмотрите схему и выполните задания 6-7.		
	 <p>Укажите кодовое название наступательной операции советских войск, нацеленной на окружение вражеских войск, проведённой в районе города, обозначенного на схеме цифрой «1».</p> <p>Ответ: <input type="text" value="Уран"/></p>		
1	Ответ совпадает с эталоном	1	
	Другие варианты	0	

8	<div>Расположите в хронологической последовательности исторические события.</div> <div>При выполнении задания переместите исторические события в нужном порядке с помощью мыши или запишите в поле ответа соответствующую последовательность цифр, не разделяя их запятыми или пробелами.</div> <div><div>1) разгром армии П.Н. Врангеля в Крыму</div><div>2) учреждение ордена Славы</div><div>3) сражение на реке Сомме</div></div> <div>Ответ: 312</div>	1	Ответ совпадает с эталоном	1
			Другие варианты	0
9	<div>Заполните пропуск в предложении.</div> <div>Проводившаяся в советском государстве с 1921 г. экономическая политика, представлявшая собой попытку использования рыночных, товарно-денежных отношений для оживления российской экономики, получила в истории название НЭП.</div>	1	Ответ совпадает с эталоном	1
			Другие варианты	0

10	<div></div> <div>А. Укажите месяц и год, когда произошло событие, которое запечатлено на фотографии, помещенной в нижней части почтового блока.</div> <div>май 1945</div> <div>Б. Укажите два любых события из истории Великой Отечественной войны, произошедших в том же году, что и событие, представленное на фотографии.</div> <div><div><input type="checkbox"/> освобождение Крыма и Севастополя</div><div><input checked="" type="checkbox"/> Балатонская оборонительная операция</div><div><input checked="" type="checkbox"/> освобождение Варшавы</div><div><input type="checkbox"/> Смоленская наступательная операция</div><div><input type="checkbox"/> Тегеранская международная конференция</div></div>	1	А	
			Ответ совпадает с эталоном.	1
			Другие варианты.	0
		2	Б	
			Ответ совпадает с эталоном	2
			Допущена одна ошибка	1
			Другие варианты	0

11	<p>Прочтите отрывок из статьи писателя и укажите слово, которое пропущено в тексте.</p> <p>У молодых писателей ещё нет достаточно мощных сил для того, чтобы внушить читателю ненависть к прошлому, и потому они не столько отталкивают читателя от прошлого, как, на мой взгляд, непрерывно упоминая о прошлом, укрепляют – фиксируют, консервируют его в памяти читателя. Для того чтобы ядовитая, каторжная мерзость прошлого была хорошо освещена и понята, необходимо развить в себе умение смотреть на него с высоты достижений настоящего, с высоты великих целей будущего. Эта высокая точка зрения должна и будет возбуждать тот гордый, радостный пафос, который придаст нашей литературе новый тон, поможет ей создать новые формы, создаст необходимое нам новое направление – социалистический реализм _____, который, само собою разумеется, может быть создан только на фактах социалистического опыта.</p>	1	Ответ совпадает с эталоном	1						
			Другие варианты	0						
12	<p>В 1922 г. был образован СССР. Выберите из выпадающих списков двух исторических деятелей, являвшихся непосредственными участниками данного события (процесса). Установите соответствие между историческими деятелями и их действиями в этом событии (процессе). Перенесите с помощью компьютерной мыши действия деятелей в соответствующие ячейки таблицы.</p> <table><tr><th>ИСТОРИЧЕСКИЙ ДЕЯТЕЛЬ</th><th>ДЕЙСТВИЕ</th></tr><tr><td><div>В.И. Ленин</div></td><td>предложил план создания федерации равноправных республик, в котором закреплялось право свободного выхода республик из состава СССР</td></tr><tr><td><div>И.В. Сталин</div></td><td>предложил план вхождения республик в состав РСФСР в качестве автономных</td></tr></table>	ИСТОРИЧЕСКИЙ ДЕЯТЕЛЬ	ДЕЙСТВИЕ	<div>В.И. Ленин</div>	предложил план создания федерации равноправных республик, в котором закреплялось право свободного выхода республик из состава СССР	<div>И.В. Сталин</div>	предложил план вхождения республик в состав РСФСР в качестве автономных	2	Ответ совпадает с эталоном	2
ИСТОРИЧЕСКИЙ ДЕЯТЕЛЬ	ДЕЙСТВИЕ									
<div>В.И. Ленин</div>	предложил план создания федерации равноправных республик, в котором закреплялось право свободного выхода республик из состава СССР									
<div>И.В. Сталин</div>	предложил план вхождения республик в состав РСФСР в качестве автономных									
			Допущена одна ошибка	1						
			Другие варианты	0						
13	<p>Из представленного списка выберите последствие образования СССР.</p> <div><div><input type="radio"/> Произошло изменение названия правящей партии на РКП(б).</div><div><input checked="" type="radio"/> Принята первая Конституция СССР, утвердившая структуру высших органов власти.</div><div><input type="radio"/> Организован коммунистический интернационал (Коминтерн), объединявший коммунистические и рабочие партии.</div><div><input type="radio"/> Создана Рабоче-крестьянская Красная армия (РККА).</div></div>	1	Ответ совпадает с эталоном	1						
			Другие варианты	0						

14	<p>Из представленного ниже списка выберите три аргумента, подтверждающих точку зрения, что сплошная коллективизация сельского хозяйства в СССР способствовала быстрому промышленному развитию страны.</p> <div><div><input checked="" type="checkbox"/> Распределение произведённой в колхозах сельскохозяйственной продукции в пользу всё более увеличивающегося в условиях индустриализации городского населения было более лёгким для государства процессом.</div><div><input checked="" type="checkbox"/> Создание колхозов позволило установить жёсткий контроль государства над производством сельскохозяйственной продукции и её распределением с учётом потребностей осуществлявшейся в данный период индустриализации.</div><div><input type="checkbox"/> В процессе коллективизации сократилось поголовье крупного рогатого скота в крестьянских хозяйствах.</div><div><input checked="" type="checkbox"/> Через машинно-тракторные станции (МТС), предоставлявшие технику колхозам, государство смогло сделать процесс производства более эффективным.</div><div><input type="checkbox"/> Для упрощения учета труда крестьян в колхозах была отменена система трудовых.</div></div>	2	Ответ совпадает с эталоном	2
			Допущена одна ошибка	1
			Другие варианты	0

15	<p>Великая Отечественная война стала одним из самых страшных и тяжелых испытаний для нашего народа и страны. Имена многих героев, творцов Победы, присвоены проспектам, площадям, бульварам и улицам Москвы.</p> <p><b>А.</b> Рассмотрите две иллюстрации, на которых изображены памятники, установленные в память о защитниках Москвы.</p> <p>Установите соответствие между памятником и местом его расположения. Переместите с помощью компьютерной мыши место расположения памятника в соответствующую ячейку таблицы.</p> <div><div><div>улица Остоженка</div></div><div><div>сквер на пересечении ул. Маршала Жукова и ул. Народного ополчения</div></div></div> <p><b>Места расположения памятников</b></p> <div>Триумфальная площадь</div>	1	А	
		Ответ совпадает с эталоном.	1	
		Другие варианты.	0	
	2	Б		
		Ответ совпадает с эталоном	2	
		Допущена одна ошибка	1	
		Другие варианты	0	
		<p><b>Б.</b> Ниже приведена карта Москвы, на которой обозначены объекты города, названные в честь героев Великой Отечественной войны.</p> <p>Используя карту Москвы, сопоставьте названия объектов с их расположением. Выберите из выпадающих списков подписи, соответствующие названиям объектов.</p> <div><div><p>Участник битвы за Москву, в честь которого названа улица, служил в дивизионном разведке, участвовал в Русско-японской и Первой мировой войнах. Когда началась Великая Отечественная война, в возрасте 52 лет он добровольно ушел на фронт. Путь от разведки ополченца до командира он пролегал за нас, оборонялись 150-й стрелковой дивизией и прошёл с ней битву за Москву. В 1942 году получил 25-е по счету ранение, но службу оставил только после Победы.</p><p>Имя самого известного советского полководца неразрывно связано со славой нашей страны и стало синонимом Победы. Начальник штаба Ленинградского, Сталинградского, Брянского, Воронежского, Западного, 1-го Украинского и 1-го Белорусского фронтов. В мае 1945 года с советской стороны подписал в Берлине акт о капитуляции фашистской Германии, а 24 июня принял Парад Победы на Красной площади.</p></div><div></div><div><p>Войска под командованием этого маршала успешно отразили нашествие в битве за Москву. Блестяще проявил себя в Сталинградской битве и разгромил врага в битве на Грозной доли. Сам же военачальник своей главной победой считал освобождение в 1944 году от фашистского захвата южной Белоруссии. Маршал командовал Парадом Победы в Москве 24 июня 1945 года.</p><p>В ночь на 7 августа 1941 года одним из первых советских летчиков совершил ночной воздушный таран на высоте 800 метров во время боя с «Хейнкелем-111» и был ранен, но всё же сумел подбить первый немецкий бомбардировщик, затем накрыть свой самолёт гранатами на врага и выпрыгнуть с парашютом. В последующие боевые дни облетел пять немецких машин.</p></div></div>		