






Ответы и указания к оцениванию образцов заданий проверочной работы по истории  
для обучающихся 6-х классов образовательных организаций города Москвы

№ задания	Ответ (эталон)	Макс. балл	Указания к оцениванию	Балл								
1	<div>Каждая из иллюстраций, приведённых ниже, относится к одному из указанных в таблице событий (процессов). Установите соответствие между событиями (процессами) и иллюстрациями: к каждому событию (процессу) подберите относящуюся к нему иллюстрацию.</div> <table><tr><td>Столетняя война</td><td>Образование государства Русь</td><td>Монгольское нашествие на Русь в XIII в.</td><td>Борьба Руси против монгольского владычества в XIV в.</td></tr><tr><td></td><td></td><td></td><td></td></tr></table>	Столетняя война	Образование государства Русь	Монгольское нашествие на Русь в XIII в.	Борьба Руси против монгольского владычества в XIV в.					2	Ответ совпадает с эталоном	2
Столетняя война	Образование государства Русь	Монгольское нашествие на Русь в XIII в.	Борьба Руси против монгольского владычества в XIV в.									
												
			Допущена одна ошибка	1								
			Другие варианты	0								

2	<div>Рассмотрите карту и выполните задания 2 и 3.</div>  <p>Походы, обозначенные на карте-схеме совершил князь</p> <p>Ответ: <input type="text" value="Святослав"/></p>	1	Ответ совпадает с эталоном	1
			Другие варианты	0

3	<div></div> <div><b>А.</b> Напишите название города, обозначенного на карте-схеме цифрой 1. <div>Киев</div></div> <div><b>Б.</b> Какое государство прекратило существование во время правления князя, походы которого обозначены на карте-схеме? <div>Хазарский каганат</div></div>	1	А	
			Ответ совпадает с эталоном	1
			Другие варианты	0
4	<div>Прочтите отрывок из исторического источника и выполните задания 4 и 5.</div> <div>«И один из вельмож рязанских по имени Евпатий Коловрат был в то время в Чернигове вместе с князем Ингварем Ингоровичем... И уехал из Чернигова с малою дружиною, и мчался быстро. И приехал в землю Рязанскую, и увидел её опустошённой: грады разорены, церкви сожжены, люди убиты... Евпатий закричал в горести души своей и разгораясь сердцем. И собрал небольшую дружину – тысячу семьсот человек, которые Богом сохранены были вне города. И помчались вслед за царём [вражеским], и едва смогли догнать его в Суздальской земле. И внезапно напали на отдыхающее войско вражеское...»</div> <div>Определите, к какому из данных событий (процессов) относится приведённый отрывок.</div> <div><div><input type="radio"/> Столетняя война</div><div><input type="radio"/> образование государства Русь</div><div><input checked="" type="radio"/> монгольское нашествие на Русь в XIII в.</div><div><input type="radio"/> борьба Руси против монгольского владычества в XIV в.</div></div>	1	А	
	Ответ совпадает с эталоном	1		
	Другие варианты	0		
5	<div>«И один из вельмож рязанских по имени Евпатий Коловрат был в то время в Чернигове вместе с князем Ингварем Ингоровичем... И уехал из Чернигова с малою дружиною, и мчался быстро. И приехал в землю Рязанскую, и увидел её опустошённой: грады разорены, церкви сожжены, люди убиты... Евпатий закричал в горести души своей и разгораясь сердцем. И собрал небольшую дружину – тысячу семьсот человек, которые Богом сохранены были вне города. И помчались вслед за царём [вражеским], и едва смогли догнать его в Суздальской земле. И внезапно напали на отдыхающее войско вражеское...»</div> <div><b>А.</b> Где, согласно данному отрывку, находился Евпатий Коловрат во время разорения врагами Рязанской земли? Выделите в тексте правильный ответ.</div> <div>Чтобы выбрать нужное предложение, щёлкните левой кнопкой мыши в любом его месте. После чего предложение выделится фоном. Чтобы отменить выбор, щёлкните повторно левой кнопкой мыши в любом месте этого предложения.</div> <div><b>Б.</b> Какова, согласно данному отрывку, численность дружины, которую сумел собрать Евпатий Коловрат? Ответ: <div>тысячу семьсот человек</div>.</div>	1	Б	
	Ответ совпадает с эталоном	1		
	Другие варианты	0		



**А.** Где, согласно данному отрывку, находился Евпатий Коловрат во время разорения врагами Рязанской земли? Выделите в тексте правильный ответ.


Чтобы выбрать нужное предложение, щёлкните левой кнопкой мыши в любом его месте. После чего предложение выделится фоном. Чтобы отменить выбор, щёлкните повторно левой кнопкой мыши в любом месте этого предложения.

**Б.** Какова, согласно данному отрывку, численность дружины, которую сумел собрать Евпатий Коловрат?

Ответ: тысячу семьсот человек

6	<b>А. С каким из данных событий (процессов) связано слово «варяги»?</b> <div><div><input type="radio"/> Столетняя война</div><div><input checked="" type="radio"/> образование государства Русь</div><div><input type="radio"/> монгольское нашествие на Русь в XIII в.</div><div><input type="radio"/> борьба Руси против монгольского владычества в XIV в.</div></div>	1	А		
			Ответ совпадает с эталоном	1	
			Другие варианты	0	
		<b>Б. Какие два из приведенных суждений являются характеристиками слова «варяги»?</b> <div><div><input type="checkbox"/> военные предводители тысячи воинов в XII-XIV вв.</div><div><input checked="" type="checkbox"/> наёмные воины русских князей в IX-XI вв.</div><div><input type="checkbox"/> представители монгольского хана в завоеванных землях</div><div><input type="checkbox"/> на Руси категория зависимого населения по положению, близкая к рабам</div><div><input checked="" type="checkbox"/> купцы, торговавшие на пути «из варяг в греки»</div></div>	2	Б	
				Ответ совпадает с эталоном	2
	Допущена одна ошибка			1	
	Другие варианты			0	

7	<div><div>В 1237–1241 гг. войска монгольского хана Батые совершили два похода на русские земли и княжества.</div><div>Выберите <b>два</b> утверждения, которые характеризуют последствия этого нашествия.</div><div><div><input type="checkbox"/> Русские князья оказали яростное сопротивление монголам и отстояли независимость своих земель.</div><div><input checked="" type="checkbox"/> Русские земли должны были выплачивать дань (ордынский выход).</div><div><input type="checkbox"/> Русские князья заключили военный союз с княжеством Литовским для совместной борьбы с Батыем.</div><div><input type="checkbox"/> Русские князья начали строить оборонительные сооружения (засечные черты) для защиты своих земель.</div><div><input checked="" type="checkbox"/> Хан своими ярлыками (грамотами) стал утверждать власть великих и удельных князей.</div></div></div>	2	Ответ совпадает с эталоном	2
			Допущена одна ошибка	1
			Другие варианты	0
8	<div><div>На каких <b>двух</b> изображениях представлены памятники культуры России, а на каких <b>двух</b> – памятники культуры зарубежных стран?</div><div>Перетащите изображения в соответствующие столбцы таблицы.</div><div><div><div>Памятники культуры России</div><div></div></div><div><div>Памятники культуры зарубежных стран</div><div></div></div></div></div>	1	Ответ совпадает с эталоном	1
			Другие варианты	0

9	<div>Рассмотрите изображение.</div> <div></div> <div><b>А.</b> Запишите название государственного праздника, на котором была сделана данная фотография.</div> <div>Ответ: <input type="text" value="День Победы"/></div> <div><b>Б.</b> Выберите <b>два</b> верных суждения о представленной фотографии.</div> <div><input type="checkbox"/> Изображённое на фотографии событие происходит на Манежной площади в Москве.</div> <div><input checked="" type="checkbox"/> Государственный праздник, на котором сделана фотография, посвящён Победе СССР над фашистской Германией.</div> <div><input checked="" type="checkbox"/> Знаменосцы, возглавляющие парад, проносят Знамя Победы над фашистской Германией.</div> <div><input type="checkbox"/> Знаменосцы несут штандарты с названиями современных воинских частей.</div> <div><input type="checkbox"/> Военный парад проходит ежегодно 22 июня.</div>	1	А	
			Ответ совпадает с эталоном	1
			Другие варианты	0
		2	Б	
			Ответ совпадает с эталоном	2
			Допущена одна ошибка	1
			Другие варианты	0