


Ответы и указания к оцениванию образцов заданий проверочной работы по истории
для обучающихся 7-х классов образовательных организаций города Москвы

№ задания	Ответ (эталон)	Макс. балл	Указания к оцениванию	Балл								
1	<div>Установите соответствие между событиями (процессами) и их участниками: к каждой позиции из первого столбца подберите соответствующую позицию из выпадающего списка.</div> <table><tr><th>СОБЫТИЯ (ПРОЦЕССЫ)</th><th>УЧАСТНИКИ</th></tr><tr><td>введение единой системы денежного обращения в России</td><td>Елена Глинская</td></tr><tr><td>издание Новоторгового устава</td><td>А.Л. Ордин-Нещокин</td></tr><tr><td>начало реформации в Германии</td><td>Мартин Лютер</td></tr></table>	СОБЫТИЯ (ПРОЦЕССЫ)	УЧАСТНИКИ	введение единой системы денежного обращения в России	Елена Глинская	издание Новоторгового устава	А.Л. Ордин-Нещокин	начало реформации в Германии	Мартин Лютер	2	Ответ совпадает с эталоном Допущена одна ошибка Другие варианты	2 1 0
СОБЫТИЯ (ПРОЦЕССЫ)	УЧАСТНИКИ											
введение единой системы денежного обращения в России	Елена Глинская											
издание Новоторгового устава	А.Л. Ордин-Нещокин											
начало реформации в Германии	Мартин Лютер											
2	<div>Прочтите отрывок из исторического источника и выполните задания 2 и 3.</div> <div>Приказ тайных дел; а в нём сидят дык да подьячих с 10 человек, и ведают они, и делают дела всякие царские, тайные и явные; и в тот Приказ бояре и думные люди не входят и дел не ведают, кроме самого царя. А посылаются того Приказу подьячие с послами в государства, и на посольские съезды, и в войну с воеводами, для того что послы в своих посольствах много чинят не к чести своему государю, в проезде и в разговорных речах... а воеводы в полках много неправды чинят над ратными людьми, и те подьячие над послами и над воеводами подсматривают и царю, приехав, сказывают... А устроен тот Приказ при нынешнем царе, для того чтоб его царская мысль и дела исполнились все по его хотению, а бояре б и думные люди о том ничего не ведали. Да в том же Приказе ведомы гранатного дела мастера и всякое гранатное дело и заводы: а на строение того гранатного дела и на заводы деньги, на покупку и на жалованье мастеровым людям берут из разных приказов, откуда царь велит...</div> <div>А. Назовите упомянутого в отрывке «нынешнего царя».</div> <div>Ответ: Алексей Михайлович.</div> <div>Б. Укажите название государства, с которым в период правления этого царя Россия вела наиболее длительную войну.</div> <div>Ответ: Речь Посполитая.</div>	1 1	А Ответ совпадает с эталоном. Другие варианты. Б Ответ совпадает с эталоном. Другие варианты.	1 0 1 0								

3	<div>Прочтите отрывок из исторического источника и выполните задания 2 и 3.</div> <div>Приказ тайных дел; а в нём сидят дык да подьячих с 10 человек, и ведают они, и делают дела всякие царские, тайные и явные; и в тот Приказ бояре и думные люди не входят и дел не ведают, кроме самого царя. А посылаются того Приказу подьячие с послами в государства, и на посольские съезды, и в войну с воеводами, для того что послы в своих посольствах много чинят не к чести своему государю, в проезде и в разговорных речах... а воеводы в полках много неправды чинят над ратными людьми, и те подьячие над послами и над воеводами подсматривают и царю, приехав, сказывают... А устроен тот Приказ при нынешнем царе, для того чтоб его царская мысль и дела исполнились все по его хотению, а бояре б и думные люди о том ничего не ведали. Да в том же Приказе ведомы гранатного дела мастера и всякое гранатное дело и заводы: а на строение того гранатного дела и на заводы деньги, на покупку и на жалованье мастеровым людям берут из разных приказов, откуда царь велит...</div> <div>Как, согласно данному отрывку, обеспечивалась особая секретность Приказа, о котором идёт речь в данном отрывке, предполагавшая недоступность информации о его деятельности для приближённых царя? Зачем, согласно данному отрывку, подьячие, служившие в Приказе, отправлялись с послами и воеводами? Выделите в тексте правильные ответы. Чтобы выбрать нужную часть предложения, щёлкните левой кнопкой мыши в любом её месте. После чего часть предложения выделится фоном. Чтобы отменить выбор, щёлкните повторно левой кнопкой мыши в любом месте этой части предложения.</div> <div>Ответ: <table><tr><td>и в тот Приказ бояре и думные люди не входят и дел не ведают, кроме самого царя.</td></tr><tr><td>и те подьячие над послами и над воеводами подсматривают и царю, приехав, сказывают...</td></tr></table></div>	и в тот Приказ бояре и думные люди не входят и дел не ведают, кроме самого царя.	и те подьячие над послами и над воеводами подсматривают и царю, приехав, сказывают...	2	Ответ совпадает с эталоном Допущена одна ошибка Другие варианты	2 1 0
и в тот Приказ бояре и думные люди не входят и дел не ведают, кроме самого царя.						
и те подьячие над послами и над воеводами подсматривают и царю, приехав, сказывают...						

4

Рассмотрите карту и выполните задания 4 и 5.



Граница Российского государства в начале XVII в.
Поход восставших крестьян, холопов, казаков на Москву

Земли, утраченные в ходе Смуты
по Деулинскому перемирию
по Столбовскому миру

Назовите имя предводителя, который возглавил поход восставших крестьян, холопов, казаков на Москву.
Ответ: Иван Болотников

1

Ответ совпадает с эталоном


1

Другие варианты

0

5

Рассмотрите карту и выполните задания 4 и 5.



Граница Российского государства в начале XVII в.
Поход восставших крестьян, холопов, казаков на Москву

Земли, утраченные в ходе Смуты
по Деулинскому перемирию
по Столбовскому миру

А. Отметьте на карте-схеме город, в котором началось формирование Второго народного ополчения.
Б. Напишите название государства, с которым Россия подписала Деулинское перемирие.
Ответ: Польша

1

А

1

Другие варианты.

0

1

Б

1

Другие варианты.

0

6

А. Какой из приведённых исторических фактов можно использовать для аргументации следующей точки зрения: «Внешняя политика России в последние 10 лет царствования Ивана IV была неудачной?»

☐ битва при Молодях

☒ заключение Плюсского перемирия со Швецией

☐ начало проведения политики опричнины

Б. Какие суждения являются аргументами в подтверждение точки зрения «Внешняя политика России в последние 10 лет царствования Ивана IV была неудачной»? Для каждого суждения выберите соответствующую ячейку таблицы.

УТВЕРЖДЕНИЯ	ДА	НЕТ
По Плюсскому перемирию Россия утратила Ивангород, Ям, Копорье и Корелу.	<input checked="" type="radio"/>	<input type="radio"/>
Разногласия и постоянные споры царя с Алексеем Адашевым мешали успешному ведению военных действий в Ливонской войне.	<input type="radio"/>	<input checked="" type="radio"/>
Потеря доступа к значительной части российского побережья Балтийского моря ограничивала возможность торговли с Западной Европой.	<input checked="" type="radio"/>	<input type="radio"/>
Поражение польского короля Стефана Батория под Псковом позволило России выиграть Ливонскую войну.	<input type="radio"/>	<input checked="" type="radio"/>

7

Заполните таблицу «События Отечественной и Всемирной истории XVI–XVII веков», используя выпадающие списки.

Дата	События Отечественной истории	События Всемирной истории
1570-е гг.	Битва при Молодях	Варфоломеевская ночь
1590-е гг.	<div>введение «урочных лет»</div>	Нантский эдикт
1640-е гг.	Соляной бунт	<div>Вестфальский мир</div>

1

А

Ответ совпадает с эталоном.

1

Другие варианты.

0

2

Б

Ответ совпадает с эталоном.

2

Допущена одна ошибка.

1

Другие варианты.

0

8

Ознакомьтесь с приведённым перечнем и изображениями памятников культуры и выполните задания 8 и 9.

Какие из приведённых памятников культуры были созданы в XVI в.? Выберите **два** памятника культуры.

☒ «Государев родословец»

☐ «Калазинская челобитная»

☒

☐

9

Ознакомьтесь с приведённым перечнем и изображениями памятников культуры и выполните задания 8 и 9.

Создателем какого из приведённых памятников культуры был Симон Ушаков?

☐ «Государев родословец»

☒ «Калазинская челобитная»

☐

☒

2

Ответ совпадает с эталоном

2

Допущена одна ошибка

1

Другие варианты

0


1

Ответ совпадает с эталоном

1

Другие варианты

0

10	Рассмотрите изображение и выполните задания		1	А	
			Ответ совпадает с эталоном	1	
			Другие варианты	0	
	<p>А. В какой по счёту год с начала Великой Отечественной войны произошли события, которым посвящён данный памятник?</p> <p>Ответ: <input type="text" value="1"/>.</p>		2	Б	
	<p>Б. Выберите верные утверждения о событии, которому посвящён памятник, изображённый на фотографии.</p> <p><input checked="" type="checkbox"/> В число защитников Москвы входили части народного ополчения, сформированные из москвичей.</p> <p><input type="checkbox"/> Изображённый на фотографии памятник расположен на Красной площади.</p> <p><input type="checkbox"/> Изображённый на фотографии памятник посвящён подвигу девушек-зенитчиц.</p> <p><input type="checkbox"/> Одним из участников события, которому посвящён изображённый на фотографии памятник, был М.И. Кутузов.</p> <p><input checked="" type="checkbox"/> Подвиги москвичей на фронтах Великой Отечественной войны увековечены в названиях московских улиц.</p>		Ответ совпадает с эталоном	2	
			Допущена одна ошибка	1	
			Другие варианты	0	