

**Демонстрационный вариант
География (итоговая работа)
8 класс**

Дополнительные материалы: географический атлас для 8 класса, непрограммируемый калькулятор.

Продолжительность работы: 45 минут

1 С каким из перечисленных государств граничит Россия?

- 1) Молдавия 2) Монголия 3) Турция 4) Узбекистан

2 Какое из перечисленных морей, омывающих побережье России, является внутренним?

- 1) Восточно-Сибирское
2) Балтийское
3) Охотское
4) Баренцево

3 Какая из перечисленных горных систем имеет наибольшую абсолютную высоту?

- 1) Алтай
2) Урал
3) Сихотэ-Алинь
4) Верхоянский хребет

4 Какой из перечисленных природных ресурсов относится к исчерпаемым возобновимым?

- 1) каменный уголь
2) естественное плодородие почв
3) энергия приливов
4) нефть

5 Негативное влияние на состояние окружающей среды оказывает

- 1) перевод ТЭС с угля на природный газ
2) использование систем замкнутого водооборота в промышленности
3) создание лесополос в степной зоне
4) строительство ГЭС на равнинных реках

6

Для получения высоких урожаев сельскохозяйственных культур нужно учитывать много природных факторов. Один из них – степень увлажнения почвы. В каком из перечисленных регионов России наиболее важно осуществлять мероприятия, позволяющие сохранять влагу в почве?

- 1) Волгоградская область
- 2) Калининградская область
- 3) Сахалинская область
- 4) Республика Карелия

7

Группа студентов из Ростова-на-Дону занимается изучением экосистем крупных рек. Какой из перечисленных заповедников им необходимо посетить для изучения экосистем дельты одной из крупнейших рек Сибири?

- 1) Усть-Ленский
- 2) Печоро-Ильчский
- 3) Тебердинский
- 4) Окский

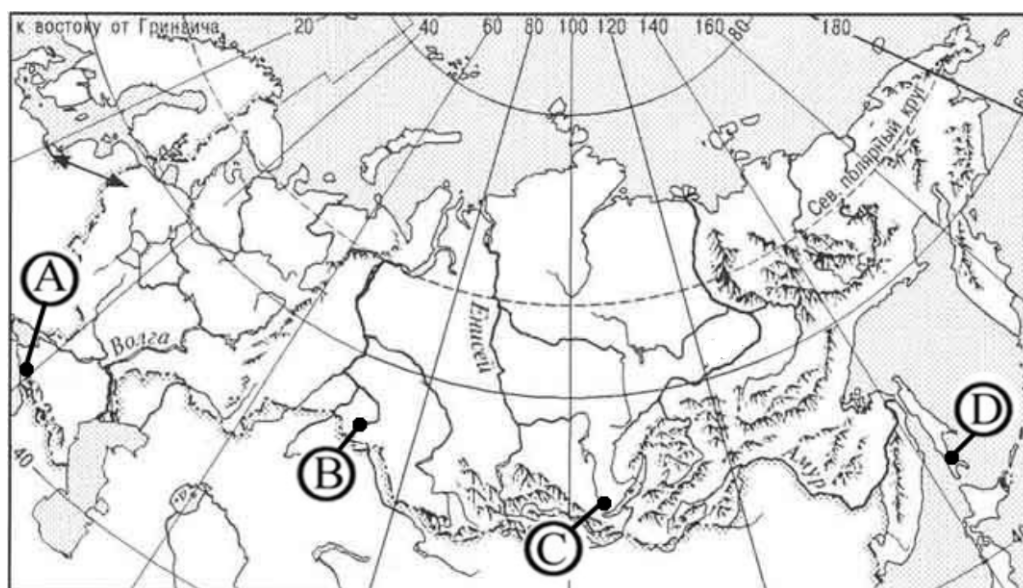
8

Какое утверждение о природе Камчатки верно?

- 1) Бóльшую часть территории полуострова занимает арктическая пустыня.
- 2) Здесь имеются действующие вулканы.
- 3) Зима на полуострове малоснежная, лето – засушливое.
- 4) Реки относятся к бассейну Северного Ледовитого океана.

9

В каком из пунктов, обозначенных на карте России буквами, средние температуры января наиболее высокие?



1) A

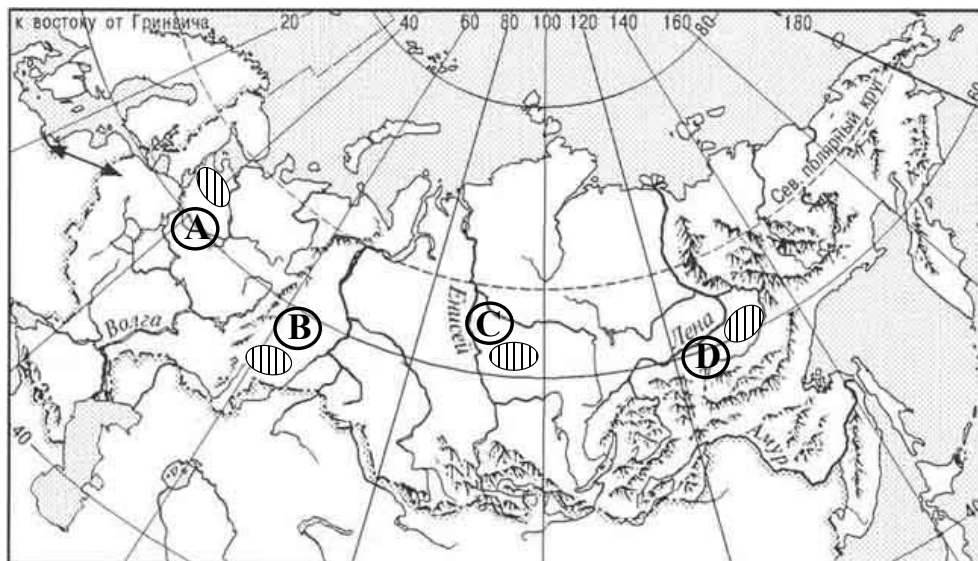
2) B

3) C

4) D

10

На какой из территорий, обозначенных на карте России буквами, средняя плотность населения наибольшая?



1) A

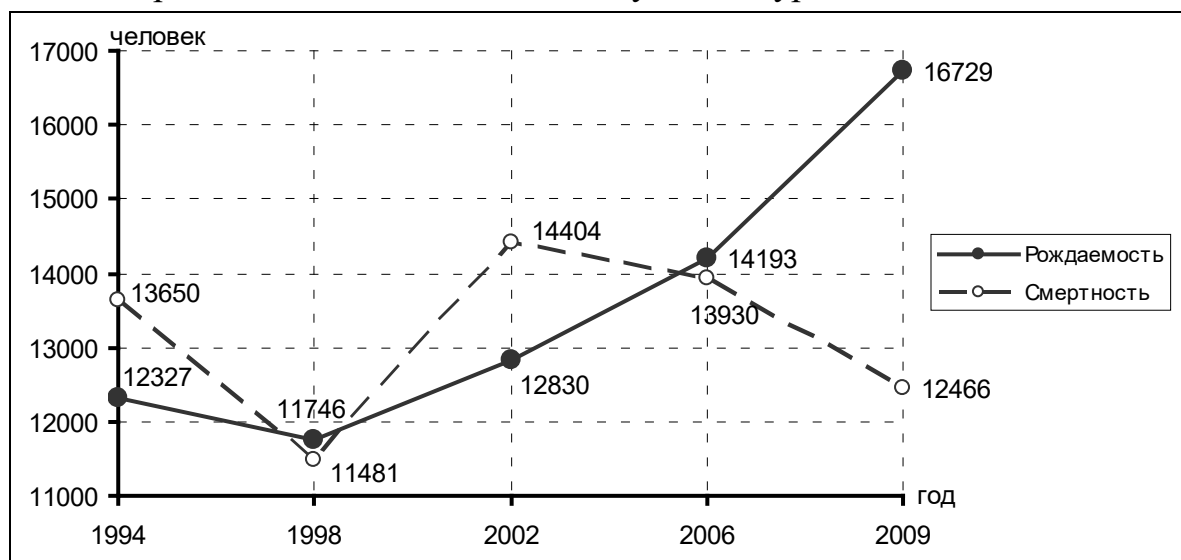
2) B

3) C

4) D

Задания 11, 12 выполняются с использованием приведенного ниже графика

Воспроизводство населения в Республике Бурятия в 1994-2009 гг.



11

Какое из утверждений о воспроизводстве населения Республики Бурятия верно?

- 1) В период с 1994 г. по 1998 г. наблюдался рост смертности.
- 2) В период с 2002 г. по 2006 г. число родившихся неуклонно возрастало.
- 3) В 2006 г. число умерших превысило число родившихся.
- 4) В период с 1998 по 2009 гг. наименьшая смертность наблюдалась в 2009 г.

12 Определите естественный прирост населения Республики Бурятия в 1998 г.

Ответ: _____ человек.

Ответ запишите в виде числа.

13 Расположите регионы РФ, обозначенные буквами, в той последовательности, в которой их жители встречают Новый год.

- А) Республика Алтай
- Б) Калининградская область
- В) Удмуртская Республика

Запишите в таблицу получившуюся последовательность букв.

Ответ:

--	--	--

14 Какой полуостров соответствует следующему описанию:

«Расположен к северу от Северного полярного круга. Преобладающие ландшафты представлены тундрой. Абсолютные высоты территории полуострова не превышают 200 м. Здесь находятся крупнейшие месторождения природного газа России.»?

Ответ: полуостров _____.

15 Расположите города, обозначенные буквами, в порядке **увеличения** их численности населения.

- А) Сыктывкар
- Б) Хабаровск
- В) Екатеринбург

Запишите в таблицу получившуюся последовательность букв.

Ответ:

--	--	--

16 Расположите города России, обозначенные буквами, в порядке **увеличения** в них среднегодового количества атмосферных осадков.

- А) Астрахань
- Б) Москва
- В) Сочи

Запишите в таблицу получившуюся последовательность букв.

Ответ:

--	--	--

Ответы на задания

№ задания	Ответ	Балл
1	2	1
2	2	1
3	1	1
4	2	1
5	4	1
6	1	1
7	1	1
8	2	1
9	1	1
10	2	1
11	2	1
12	265	1
13	АВБ	1
14	Ямал	1
15	АБВ	1
16	АБВ	1