

**Демонстрационный вариант  
История (итоговая работа)  
8 класс**

Продолжительность работы: 45 минут

**1** Как в Древней Руси называли главу городского ополчения, избираемого из ремесленников или купцов?

- 1) посадник
- 2) боярин
- 3) отрок
- 4) тысяцкий

**2** Рассмотрите иллюстрацию.



Какие **три** высказывания об изображённом событии верны?

- 1) Это событие, названное Ледовым побоищем, относится к XIII в.
- 2) Ливонские рыцари с одной стороны и суздальско-новгородское войско с другой сражались у Вороньего камня на Чудском озере.
- 3) Русскими дружинами предводительствовал князь Владимир Мономах.
- 4) В ходе сражения крестоносцы были разбиты, часть рыцарей попала в плен.
- 5) Художник изобразил битву русских князей и половцев против монголов на реке Калке.

В XIV–XV вв. Русская земля собирает силы и вступает в борьбу за освобождение от ордынского владычества.

Прочитайте текст, в котором пропущено слово.

«Известно стало, что ордынский хан \_\_\_\_\_ собрал силу великую, всю орду безбожных татар и идёт на Русскую землю. Князем же великим был тогда прославленный и непобедимый великий Дмитрий. Он пришёл к святому Сергию, потому что великую веру имел в старца, и спросил его, прикажет ли святой ему против безбожных выступить: ведь он знал, что Сергей – муж добродетельный и даром пророческим обладает. Святой же, когда услышал об этом от великого князя, благословил его, молитвой вооружил и сказал: "Следует тебе, господин, заботиться о порученном тебе Богом славном христианском стаде. Иди против безбожных и, если Бог поможет тебе, ты победишь и невредимым в своё отечество с великой честью вернёшься"».

Какие **три** высказывания об описанном в тексте событии верны?

- 1) Упомянутый в тексте князь Дмитрий получил за совершённую под его водительством победу над ордынским войском прозвание Донской.
- 2) Описываемые в тексте события относятся к XIII в.
- 3) «Муж добродетельный» Сергей – основатель Троицкой обители к северу от Москвы, ставшей центром сохранения и преумножения христианской веры.
- 4) Пропущенное в тексте имя золотоордынского хана – Батый.
- 5) После победы над полчищами врагов князь Дмитрий побывал в Троицкой обители у старца и принёс в монастырь дары.

- 4 Установите соответствие между русскими землями и датами вхождения этих земель в состав Московского государства в XVI в.: для каждой позиции из первого столбца подберите соответствующую позицию из второго столбца, обозначенную цифрой.

**ЗЕМЛИ**

**ДАТЫ**

- |  |            |
|--|------------|
| А) Смоленская земля                    | 1) 1510 г. |
| Б) Астраханские земли в низовьях Волги | 2) 1514 г. |
|  | 3) 1556 г. |

Запишите в таблицу выбранные цифры под соответствующими буквами.

	<b>А</b>	<b>Б</b>
<b>Ответ:</b>	<input type="text"/>	<input type="text"/>

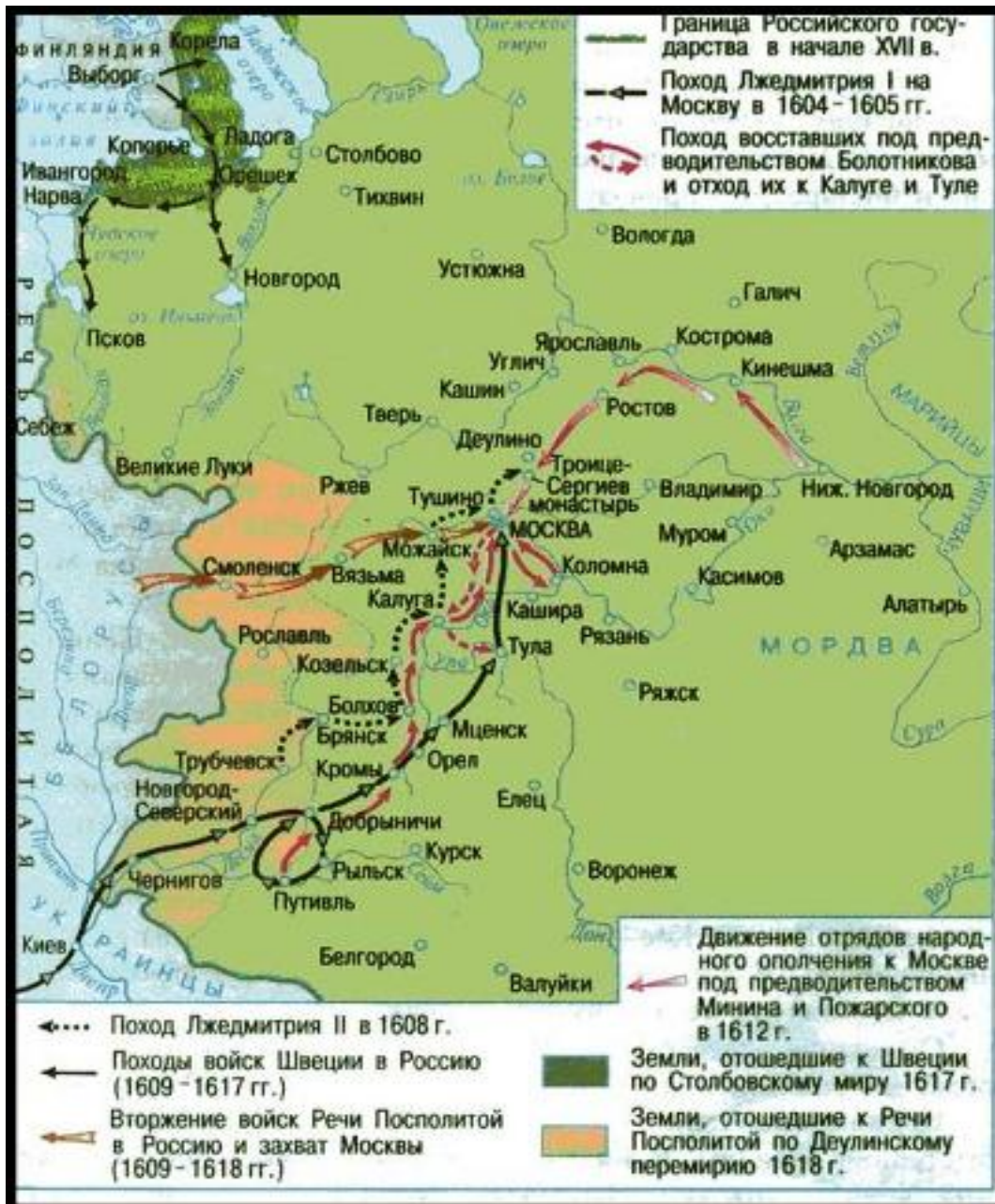
- 5 Прочитайте текст.

«И, как реки, пролилась с обеих сторон христианская кровь, – грехов ради наших разлился божий превеликий гнев, его же праведным судам сопротивление невозможно, вот и попустил этому окаянному царствовать в великой России. Когда же принял скипетр и царский престол, многие из жителей царствующего града и окрестных городов и сёл безошибочно узнали в нём врага креста Христова расстригу Гришку Отрепьева, а не царевича Димитрия, однако, страшась бесчисленных смертоносных пыток, не смели разоблачить его, но тайно о нём в уши христиан нашёптывали. Тот же окаянный каких только бед и злобы не обрушил на великую Россию!»

Запишите имя, под которым упомянутый в тексте самозванец вошёл в историю России.

Ответ: \_\_\_\_\_.

Рассмотрите историческую карту.



Какие **три** высказывания об отображённых на карте событиях Смутного времени XVII в. верны?

- 1) В число городов, отторгнутых от России в пользу Речи Посполитой, вошли Смоленск, Рославль, Чернигов.
- 2) В 1608 г. к Москве подступило войско самозванца Лжедмитрия II.
- 3) Народное ополчение под предводительством Минина и Пожарского выступило к Москве из Нижнего Новгорода.
- 4) Перемирие между Речью Посполитой и Российским государством было подписано в г. Столбово в 1617 г.
- 5) По мирному договору со Швецией, к шведскому королевству отошли города Столбово, Ладога, Тихвин.

7 Рассмотрите изображение монеты, выпущенной в память об освоении Сибири русскими землепроходцами.



Какие **два** высказывания об этом процессе верны?

- 1) На бескрайних землях Сибири проживали многочисленные народы: тунгусы, юкагиры, эвенки, якуты, на Дальнем Востоке – нивхи и дауры.
- 2) Путешественник, изображённый на монете, первым достиг устья реки Анадырь.
- 3) Освоение сибирских земель и их вхождение в состав Московского государства было полностью завершено в XVI в.
- 4) Экспедиция В. Пояркова исследовала земли Приамурья и впервые вышла в Сахалинский залив Охотского моря.
- 5) Сибирские народы повсеместно оказывали ожесточённое сопротивление русской колонизации, отказывались платить ясак – дань пушниной.

8 Укажите положение, установленное по Столбовскому мирному договору, заключённому Россией со Швецией в 1617 г.

- 1) Швеции передавался Новгород Великий и прилегающие к нему земли.
- 2) Россия утратила земли по побережью Балтийского моря: Копорье, Ям, Ивангород и устье реки Невы.
- 3) Крепость Выборг признавалась совместным владением России и Швеции.
- 4) Города Ладога и Олонец передавались под управление шведскому королю.

**9** Какие **три** термина (понятия) характерны для времени преобразований царя Петра Алексеевича?

- 1) купеческие кумпанства
- 2) патриаршество
- 3) ассамблея
- 4) дьячьи избы
- 5) подушная подать

**10** Заполните пустые ячейки таблицы «Реформаторская деятельность Петра I». Для этого используйте представленный ниже избыточный список: для каждой ячейки, обозначенной буквой, выберите номер нужного элемента.

Даты	События	Исторические последствия
1708 г.	(А)	(Б)
(В)	принятие Табели о рангах	упорядочена дворянская служба государю, предоставлена возможность для недворян получить дворянство

Элементы для выбора:

1. принятие протекционистского Таможенного тарифа
2. 1722 г.
3. губернская (областная) реформа
4. было оказано содействие развитию отечественного производства промышленных товаров
5. утвердилось новое территориальное деление страны, новые территориальные единицы возглавили верные царю люди
6. 1718–1720 гг.

Запишите в таблицу выбранные цифры под соответствующими буквами.

	<b>А</b>	<b>Б</b>	<b>В</b>
<b>Ответ:</b>	<input type="text"/>	<input type="text"/>	<input type="text"/>

11

Рассмотрите изображение аверса памятной медали, выпущенной в честь Полтавской битвы.



Какие **три** высказывания о событии, которому посвящена монета, верны?

- 1) Сражение является кульминационным моментом Северной войны, во время которой Россия боролась за выход к Балтийскому морю.
- 2) Русская армия, предводительствуемая царём Петром, превосходила шведские войска в численности, существенное превосходство было у русских в артиллерии.
- 3) Шведский король Карл XII после сражения был пленён и увезён в Москву.
- 4) Шведская кавалерия в ходе сражения попала под ураганный огонь русской артиллерии и была разбита.
- 5) Большинство шведов смогли отступить от Полтавы под прикрытием отрядов украинского гетмана Мазепы.

12

Что является одной из причин нестабильности верховной власти в России в период дворцовых переворотов?

- 1) проникновение из Европы идей Просвещения и влияние их на умы дворянства
- 2) вмешательство руководства Русской православной церкви в светские дела
- 3) провозглашение Русского государства империей, великой европейской державой
- 4) вовлечение гвардейских полков в борьбу группировок за престол, за власть

При подготовке презентации на тему «Российская империя в период дворцовых переворотов» ученик составил **три** предложения, характеризующие события периода правления Анны Иоанновны (1730–1740). Укажите эти предложения.

- 1) Был упразднён Верховный Тайный совет, некоторые из его членов были отправлены в ссылку.
- 2) Императрица тяготилась государственными делами, огромные суммы тратились на содержание двора, где нескончаемой чередой шли пышные празднества.
- 3) Императрица подписала Манифест о вольности дворянства, согласно которому дворяне получили право не служить государю.
- 4) Были учреждены кадетские корпуса для молодых дворян, по окончании которых они получали возможность выходить на службу в офицерских чинах.
- 5) Завершилось участие России в Семилетней войне против Фридриха Второго, после чего Пруссии были возвращены её владения.



Рассмотрите два обозначенных буквами портрета российских военачальников, чья деятельность пришлась на XVIII в.

А



А.В. Суворов

Б



В.В. Фермор

Установите соответствие между человеком, изображённым на портрете, и краткой характеристикой его деятельности.

- 1) Флотоводец, адмирал, один из создателей Черноморского флота и с 1790 г. его командующий; одержал ряд крупных побед над турецким флотом в Керченском морском сражении, у Тендры и Калиакрии.
- 2) Генерал-аншеф, пик его военной карьеры пришёлся на Семилетнюю войну; он блестяще взял Мемель, способствовал победе русских войск при Гросс-Егерсдорфе; под его руководством в 1758 г. русские войска впервые заняли Восточную Пруссию с Кёнигсбергом.
- 3) Генералиссимус, опережая своё время, смог развить и обогатить лучшие традиции русского военного искусства. Сущность своих нововведений, которые были воплощены в книге «Наука побеждать», он выразил лаконичной формулой: «глазомер, быстрота, натиск».


Запишите в таблицу выбранные цифры под соответствующими буквами.

	А	Б
Ответ:	<input type="text"/>	<input type="text"/>

По заданию учителя истории ученик подготовил презентацию по теме «Культура Российского государства в XVIII в.».

Какие две из представленных иллюстраций отобрал ученик для этой презентации?


1)



2)



3)



4)



**16**

По заданию учителя ученик составил сообщение о воображаемом путешествии по России в 1725 г. В одном из предложений он допустил ошибку.

Укажите предложение, в котором допущена фактическая **ошибка**.

- 1) Началось путешествие в Москве; осмотрев соборы Кремля и храм Покрова на Рву, путешественник отправился на север страны.
- 2) Вторым пунктом его путешествия стал Новгород Великий, где ему удалось побывать на Софийской площади, в древнем Софийском соборе.
- 3) Из Новгорода путешественник отправился в новую столицу России – город Санкт-Петербург, основанный на берегах реки Невы и Финского залива.
- 4) Далее, из Петербурга, путешественник отправился на запад в порт Архангельск, который ещё со времён царя Ивана Грозного принимал иноземные торговые суда, но теперь уступил первенство в торговле с Европой Санкт-Петербургу, Ревелю и Риге.
- 5) Из Архангельска путешественник отправился в Соловецкий монастырь, монахи которого, сохраняя верность старой вере, затворились, вынудив тем самым правительственные войска снять осаду монастыря.

**17**

Расположите в хронологической последовательности события истории России XVII–XVIII вв., обозначенные буквами.

- А. регентство царевны Софьи Алексеевны
- Б. принятие Соборного уложения
- В. подписание Ништадтского мира
- Г. Медный бунт в Москве

Запишите в ответ буквы в нужной последовательности, не разделяя их запятыми.

Ответ: \_\_\_\_\_.

**Ответы на задания**

<b>№ п/п</b>	<b>Ответ</b>
1	4
2	124*
3	135*
4	23
5	Лжедмитрий 1 <или> Лжедмитрий I <или> Лжедмитрий Первый
6	123*
7	14*
8	2
9	135*
10	352
11	124*
12	4
13	124*
14	32
15	34*
16	5
17	БГАВ

\*Порядок следования цифр в ответе не имеет значения.